

فهرست مطالب

صفحه

فصل ۱: عدد و رقم	۷
فصل ۲: جمع و تفریق اعداد دو رقمی	۳۰
فصل ۳: اشکال هندسی	۵۷
فصل ۴: عددهای سه رقمی	۷۲
فصل ۵: اندازه‌گیری	۹۴
فصل ۶: جمع و تفریق اعداد سه رقمی	۱۰۴
فصل ۷: کسر و احتمال	۱۲۹
فصل ۸: آمار و نمودار	۱۴۵

فصل ۱:
عدد و رقم

ایضی پاپہ
۲


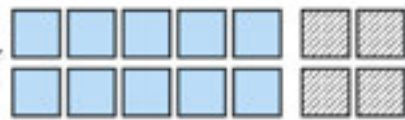
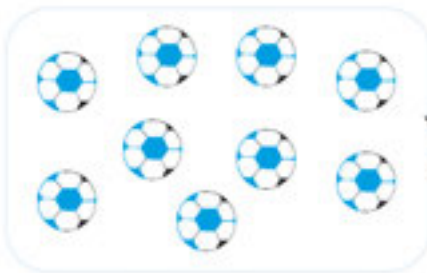
عدد و شمارش



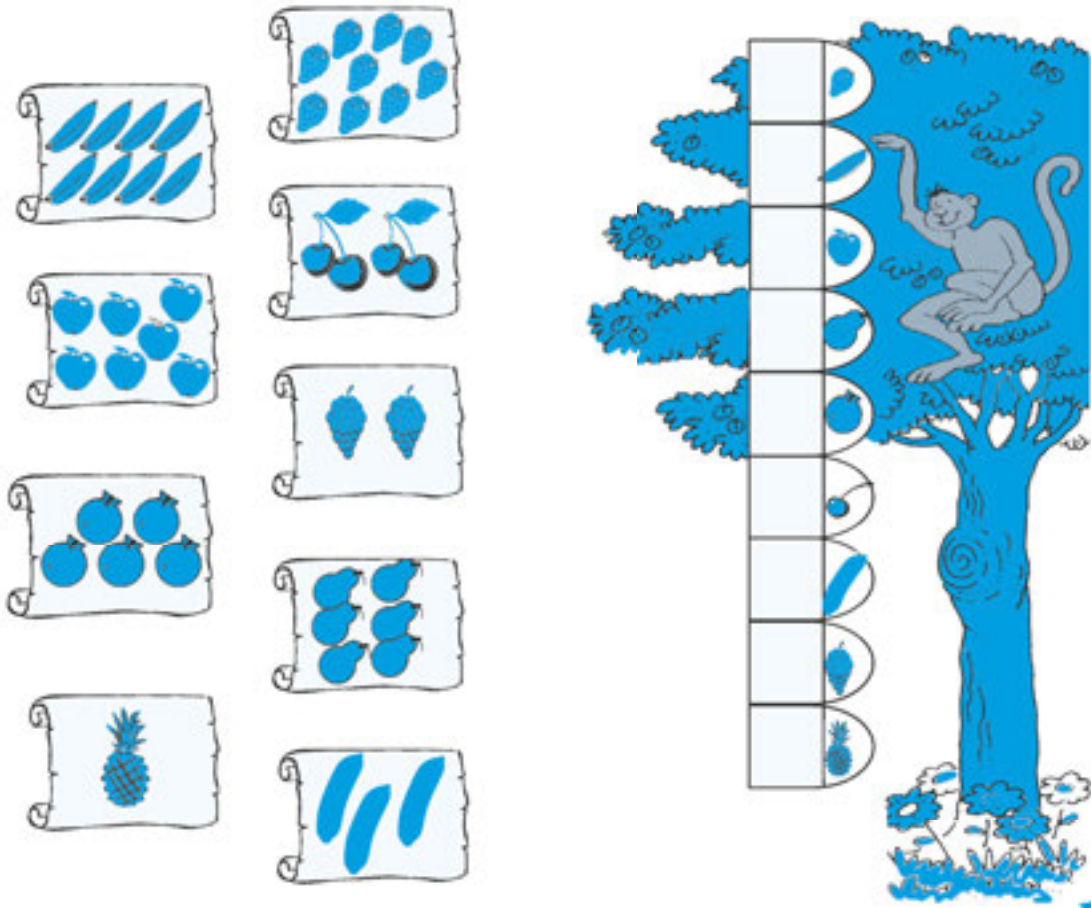
عدد مربوط به هر شکل را بنویس.



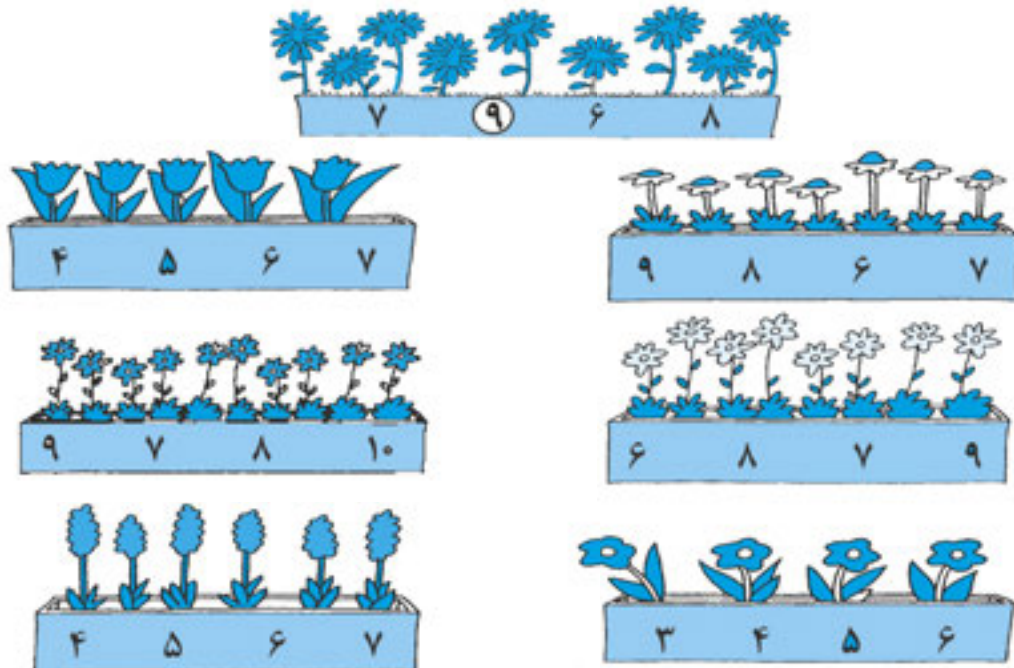
من برای شمردن، روی هر شکلی که می‌شمارم را می‌زنم.



تعداد هر شکل را بنویس. ☆









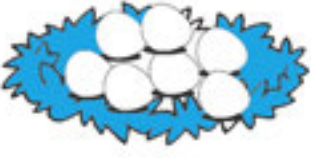


دور عددی که گل‌های هر گلدان را نشان می‌دهد، خط بکش. ☆

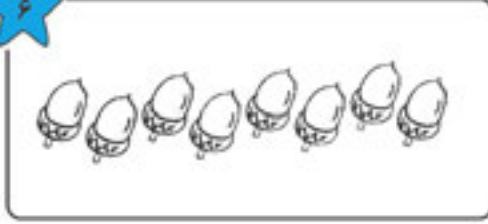
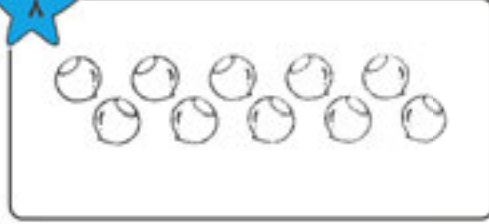



ریاضی دومی‌ها

☆ هر عدد را به تصویر مناسب آن وصل کن.


پنج	سه	چهار	دو
			
	هشت	نه	
			
هفت	نش	یک	
			

☆ به اندازه‌ی عدد نوشته شده از شکل‌ها رنگ کن.

۶	۸
	



☆ مثل هر عدد را روبه روی آن بنویس.



☆ مثل هر یک از عددها را بنویس.



☆ هر ساعت چه عددی را نشان می دهد.



ساعت

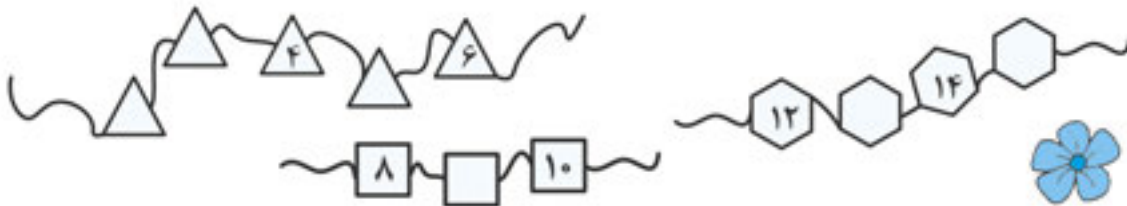


ساعت




ساعت

☆ در هر جای خالی عدد مناسب بنویس.



☆ با توجه به شکل، عبارت هر قسمت را کامل کن و از دو طرف بخوان.



☆ نوشتن عددها را ادامه بده.



دسته‌های ده تایی و یکی









با توجه به شکل جدول‌ها را کامل کن.












<p>یکی ده تایی</p>	<p>یکی ده تایی</p>
<p>یکی ده تایی</p>	<p>یکی ده تایی</p>
<p>یکی ده تایی</p>	<p>یکی ده تایی</p>
<p>یکی ده تایی</p>	<p>یکی ده تایی</p>
<p>ده تایی یکی</p>	<p>ده تایی یکی</p>

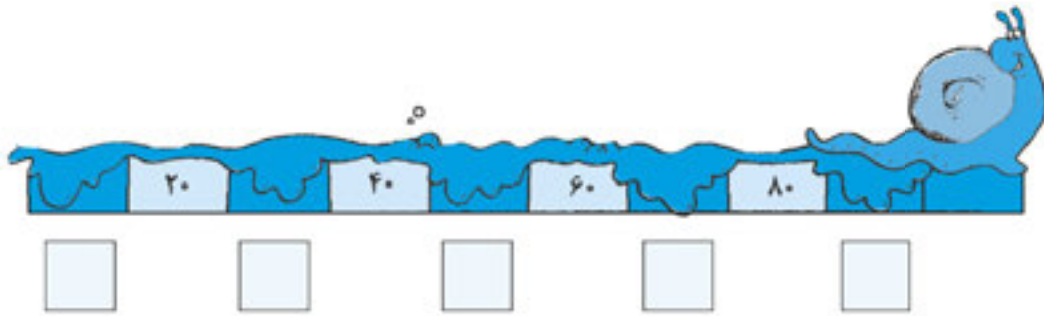
مانند نمونه کامل کن. 

 سی ۳۰	
	
	

هر عدد را به کلمه ی مناسب آن وصل کن. 

 پنجاه	 ده	 سی	 بیست					
۱۰	۲۰	۳۰	۴۰	۵۰	۶۰	۷۰	۸۰	۹۰
 چهل	 هفتاد	 شصت	 نود	 هشتاد				

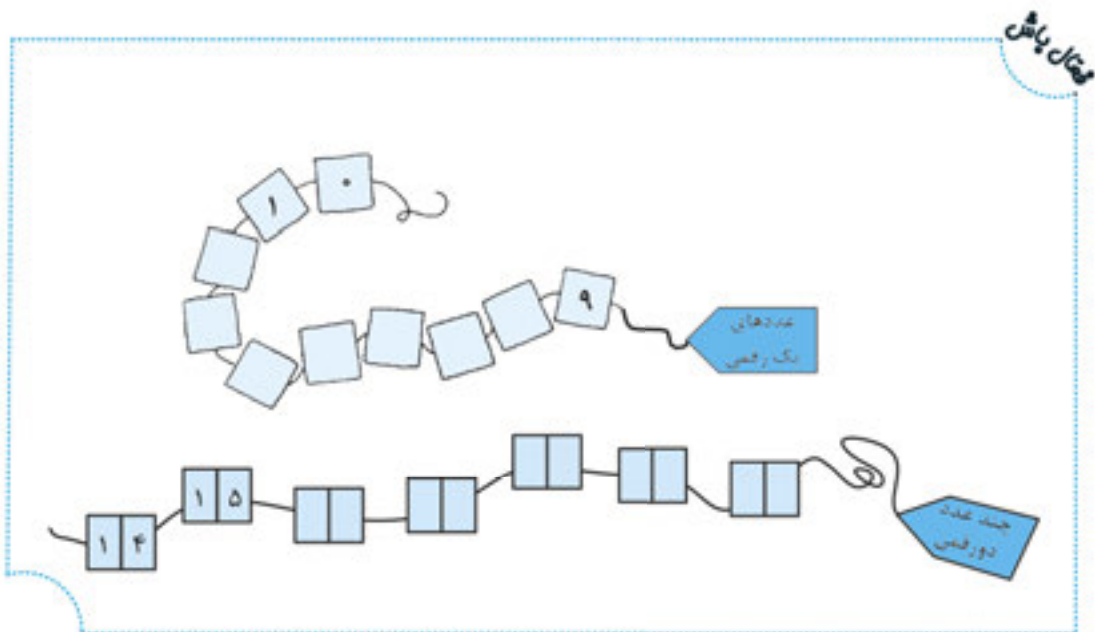
با توجه به عددهای نوشته شده در هر جای خالی عدد مناسب بنویس.



عددها را در جدول بنویس.

<table border="1"> <tr> <td>یکی</td> <td>ده تایی</td> </tr> <tr> <td>۵</td> <td>۸</td> </tr> </table>	یکی	ده تایی	۵	۸	<table border="1"> <tr> <td>یکی</td> <td>ده تایی</td> </tr> <tr> <td>۲</td> <td>۶</td> </tr> </table>	یکی	ده تایی	۲	۶	<table border="1"> <tr> <td>یکی</td> <td>ده تایی</td> </tr> <tr> <td>۴</td> <td>۹</td> </tr> </table>	یکی	ده تایی	۴	۹	<table border="1"> <tr> <td>یکی</td> <td>ده تایی</td> </tr> <tr> <td>۰</td> <td>۷</td> </tr> </table>	یکی	ده تایی	۰	۷
یکی	ده تایی																		
۵	۸																		
یکی	ده تایی																		
۲	۶																		
یکی	ده تایی																		
۴	۹																		
یکی	ده تایی																		
۰	۷																		

عددها را ادامه بده و روی کارت‌ها بنویس.



من برای نوشتن عددهای دو رقمی جای کارت را با هم عوض می‌کنم.



با جابه‌جا کردن رقم‌های روی کارت‌ها عدد دو رقمی جدید بنویس.

<table border="1"> <tr> <td>۵</td> <td>۴</td> <td>→</td> <td>۵۴</td> </tr> <tr> <td>۴</td> <td>۵</td> <td>→</td> <td>۴۵</td> </tr> </table>	۵	۴	→	۵۴	۴	۵	→	۴۵	<table border="1"> <tr> <td>۹</td> <td>۶</td> <td>→</td> <td></td> </tr> <tr> <td></td> <td></td> <td>→</td> <td></td> </tr> </table>	۹	۶	→				→	
۵	۴	→	۵۴														
۴	۵	→	۴۵														
۹	۶	→															
		→															
<table border="1"> <tr> <td>۱</td> <td>۷</td> <td>→</td> <td></td> </tr> <tr> <td></td> <td></td> <td>→</td> <td></td> </tr> </table>	۱	۷	→				→		<table border="1"> <tr> <td>۳</td> <td>۸</td> <td>→</td> <td></td> </tr> <tr> <td></td> <td></td> <td>→</td> <td></td> </tr> </table>	۳	۸	→				→	
۱	۷	→															
		→															
۳	۸	→															
		→															

دور عددهای دو رقمی خط بکش.

دور عددهای یک رقمی خط بکش.



من برای شمارش شکل‌ها دسته‌ی ده‌تایی درست می‌کنم.



شکل‌ها را بشمار و در جاهای خالی عدد مناسب بنویس.

	<table border="1"> <tr> <td>با عدد:</td> <td>یکی</td> <td>ده تایی</td> </tr> <tr> <td>با حروف:</td> <td></td> <td></td> </tr> </table>	با عدد:	یکی	ده تایی	با حروف:		
با عدد:	یکی	ده تایی					
با حروف:							
	<table border="1"> <tr> <td>به عدد:</td> <td>یکی</td> <td>ده تایی</td> </tr> <tr> <td>به حروف:</td> <td></td> <td></td> </tr> </table>	به عدد:	یکی	ده تایی	به حروف:		
به عدد:	یکی	ده تایی					
به حروف:							
	<table border="1"> <tr> <td>با عدد:</td> <td>یکی</td> <td>ده تایی</td> </tr> <tr> <td>با حروف:</td> <td></td> <td></td> </tr> </table>	با عدد:	یکی	ده تایی	با حروف:		
با عدد:	یکی	ده تایی					
با حروف:							



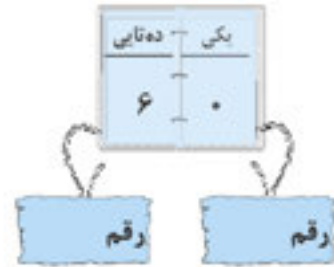
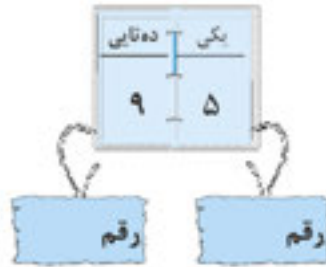
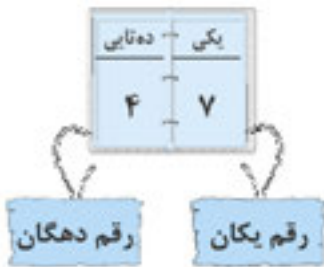
۳۸ یک عدد دو رقمی است. رقم‌های آن ۸ و ۳ است.


عدد ۵۶ چند رقمی است؟ رقم‌های آن و است.

با رقم‌های ۲ و ۷ هرچقدر می‌توانی عددهای دو رقمی بنویس.

با رقم‌های ۳ و ۹ هرچقدر می‌توانی عددهای دو رقمی بنویس.


مانند نمونه کامل کن. 



عددها را در جدول بگذار و با حروف بنویس. 



بیست و هفت

به عدد و حروف بنویس. 

رقم یکان ۸ و رقم دهگان ۳	↔	۳۸ - سی و هشت
رقم یکان ۶ و رقم دهگان ۹	↔	-
رقم یکان ۷ و رقم دهگان ۷	↔	-
رقم یکان ۵ و رقم دهگان ۴	↔	-

عددها را ادامه بده و در جاهای خالی عدد مناسب بنویس.

در جاهای خالی عددهای مناسب بنویس.

۸۷	\longleftrightarrow	رقم یکان و رقم دهگان
۵۶	\longleftrightarrow	رقم یکان و رقم دهگان
۲۹	\longleftrightarrow	رقم یکان و رقم دهگان
۴۶	\longleftrightarrow	رقم یکان و رقم دهگان

الگویابی کن.



☆ در جاهای خالی عددهای مناسب بنویس.




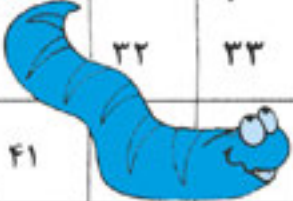

- یک عدد دو رقمی بنویس که یکی از رقم‌های آن ۰ باشد
- با دو رقم ۴ و ۲ هر چقدر می‌توانی عدد دورقمی بنویس.
- یک عدد دو رقمی بنویس که رقم یکان و دهگان آن مثل هم باشد.
- یک عدد دو رقمی بنویس که رقم یکان آن ۸ و رقم دهگان آن ۲ تا کمتر از رقم یکان باشد.
- با رقم‌های ۶ و ۳ هر چقدر می‌توانی عدد دورقمی بنویس.
- عدد ۶۹ چند رقم دارد؟ رقم‌های آن و است.

☆ با خط کش عددهای مثل هم را به هم وصل کن.




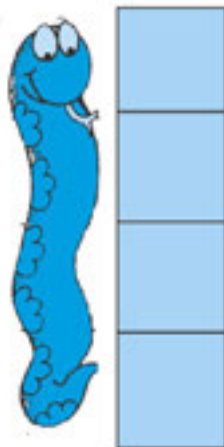
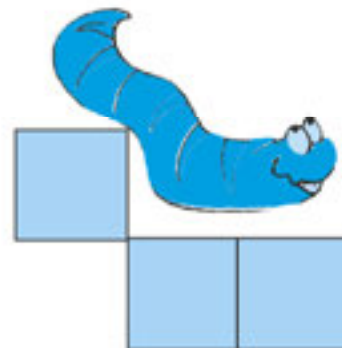
☆ الگویابی کن.

عددهای پنهان شده را پیدا کن و در جاهای خالی بنویس. 

۱	۲	۳	۴	۵		۷	۸		
۱۱			۱۴	۱۵		۱۷		۱۹	۲۰
۲۱	۲۲		۲۴	۲۵		۲۷	۲۸		۳۰
		۳۲	۳۳	۳۴	۳۵		۳۷	۳۸	
۴۱			۴۴	۴۵	۴۶			۴۹	۵۰



۹	۱۰
---	----





من برای حل مسئله شکل‌های ساده یا محور یا چوب خط می‌کشم.

۱- ۱۰ پرنده روی شاخه نشسته بودند. ۳ تا از پرنده‌ها پرواز کردند.




چند پرنده روی شاخه ماندند؟
..... پرنده روی شاخه ماندند.

۲- محمد ۲۷ تیله ی آبی پررنگ و کم رنگ دارد. ۱۲ تا از تیله‌ها پررنگ هستند.



چند تیله کم رنگ است؟
..... تیله کم رنگ است.

۳- چهارمین عدد بعد از عددی که شکل نشان می‌دهد چند است؟



چهارمین عدد بعد از این عدد است.

۴- حامد ۱۸ مداد رنگی داشت. ۶ تای دیگر هم خرید. حالا حامد چند مداد رنگی دارد؟

حامد مداد رنگی دارد.

۵- با رقم‌های ۴ و ۰ هر چقدر می‌توانی عدد دو رقمی بنویس.